

2023-2024-ОКУУ ЖЫЛЫНДА  
ЖАЛПЫ БИЛИМ БЕРУУЧУ  
МЕКТЕПТЕРДИН 11-  
КЛАСС ОКУУЧУЛАРЫ  
ҮЧҮН

# Өзбекстан тарыхы

ПРЕДМЕТИНЕН ЖЫЙЫНТЫКТООЧУ  
АТТЕСТАЦИЯСЫН ӨТКӨРҮҮ БОЮНЧА  
МЕТОДИКАЛЫК СУНУШ ЖАНА МАТЕРИАЛДАР



# **2023-2024- ОКУУ ЖЫЛЫНДА ЖАЛПЫ БИЛИМ БЕРҮҮ МЕКТЕПТЕРИНИН 11-КЛАСС ОКУУЧУЛАРЫ ҮЧҮН ЖЫЙЫНТЫКТООЧУ КҮЗӨТҮҮ ЭКЗАМЕНИН ӨТКӨРҮҮ БОЮНЧА ӨЗБЕКСТАН ТАРЫХЫ ПРЕДМЕТИНЕН СПЕЦИФИКАЦИЯСЫ**

**Түзүүчүлөр:** Өзбекстан Республикасы мектепке чейинки жана мектепте билим берүү министрлиги алдындагы адистештирилген билим берүү мекемелери агенттиги системасындагы Мухаммад ал-Хоразмий атындагы таяныч адистештирилген мектептин Тарых предмети мугалими

**Абдужалилова Нигора Абдусаттаровна**

**Эксперт:** Жогорку даражалуу тарых жана мамлекеттик укуктун негиздери предметинин мугалими

**Дехконов Гайрат Розматович**

11-классты аяктаган окуучулар Өзбекстан тарыхы боюнча билим берүү программасынын алкагында белгилүү деңгээлдеги компетенцияларга ээ болушат.

Окуучулардын алган билимин, жөндөмүн жана квалификациясын аныктоо максатында 2023-2024-окуу жылында 11-класстарда бүтүрүү сынагы жазуу жана оозеки түрүндө өткөрүлөт.

Ар бир экзамен билетинин суроолору жана тапшырмалары өз ичине Өзбекстан тарыхы предмети боюнча жалпы билим берүү мектептеринин 10-11-класстарында өтүлгөн темаларды камтыйт. Ошондой эле сунуштарда билимге байланыштуу суроолор, колдоого жана ой жүгүртүүгө карата тапшырмалар боюнча баалоо критерийлери да берилген.

Ар бир окуучу бирден билетти тандап алат. Билетте окуучу үчүн 5 тен суроо берилет. Суроолордун экөөсү билүүгө, экөөсү колдоого, бирөөсү ой-жүгүртүүгө байланыштуу болот. Ой-жүгүртүүгө байланыштуу суроого оозеки жооп берилет. Окуучуга билеттин суроолоруна жооп бериши үчүн 120 мүнөт убакыт берилет.

Окуучулардын жазма жана оозеки иштери 100 баллдык системанын негизинде:

0 – 29% – “канааттандырарсыз”;

30–65% – “канааттандырарлык”;

66–85% – “жакшы”;

86–100% – “эң жакшы” деген баалар менен бааланат. Ар бир тапшырма үчүн белгиленген баллдан жогору балл коюуга жол берилбейт.

Берилген суроолордон жыйынтыктоочу мамлекеттик аттестация өткөрүлүшү белгиленген күндөн бир күн мурун, Ишчи топ тарабынан жребий кармоо (жеребьёвка) жолу аркылуу 2 вариант түзүлүп, жарыя кылынат.

Ўзбекистон тарихи	Саны	Билүү	Колдоо	Ой-жүгүртүү
<b>XIX кылымдын экинчи жарымы жана XX кылымдын 90-жылдары</b>		1	1	
Эгемендүүлүк доору		1	1	1
<b>Жалпы</b>	<b>5</b>	<b>2</b>	<b>2</b>	<b>1</b>

### ТАПШЫРМА БОЮНЧА БААЛООНУН ЧЕНЕМДЕРИ

№	Бөлүмдүн аталышы	Тапшырманын түрү	Тапшырманын формасы	Баалоо критерийи
<b>XIX кылымдын экинчи жарымы жана XX кылымдын 90-жылдарына</b>				
1.	Россия империясынын баскыны алдында Бухара эмираты, Кокон жана Хива хандыктарынын коомдук-саясий жана экономикалык абалы. Россия империясынын Орто Азияга жортуулу, Түркстан генерал-губернаторлугунун түзүлүшү жана Бухара эмираты жана Хива хандыгынын Россия империясынын вассалына айланышы. Түркстандагы Россия империясына каршы улуттук-боштондук кыймылдар. Түркстанда жадилизм кыймылынын пайда болушу жана жадилизм кыймылы өкүлдөрүнүн иш аракети.	Б  кыска жооптуу	Ж: _____	Суроонун жообу жазылат, туура жооп үчүн <b>18 балл</b> менен бааланат. Ката жооп үчүн <b>0</b> балл берилет.
2.	Бухара эмираты жана Хива хандыгынын жоюлушу. Түркстан автономиясы. Түркстан АССР, БССР жана ХХСРде Совет бийлигине Орто Азиядагы аймактык бөлүнүү жана Өзбекстан ССРинин түзүлүшү. Өзбекстандагы репрессиялык	К  Карта	Картада белгиленген аймак	Картада белгиленген аймакты аныктап, берилген тапшырма аткарылса – <b>21 балл</b> Аймак

	саясат. Өзбекстан Экинчи дүйнөлүк согуш жылдарында. 1980-1990-жылдарда Өзбекстан. Өзбекстанда коомдук-саясий активдүүлүк жана көз карандысыздыкка умтулуунун күч алышы.				аныкталса, бирок тапшырма аткарылбаса – <b>10 балл</b> . Ката жооп үчүн <b>0</b> балл берилет.						
<b>Эгемендүүлүк доору</b>											
3.	Эгемендүүлүктүн жарыяланышы жана Өзбекстанда коомдук-саясий реформалардын башталышы. Өзбекстанда жарандык коомдун калыптанышы жана өнүгүшү. Өзбекстандагы экономикалык реформалар жана коомдук саясат.	Б	Кыска жооптуу	Ж: _____	Суроонун жообу жазылат, туура жооп үчүн <b>18 балл</b> менен бааланат. Ката жооп үчүн <b>0</b> балл берилет.						
4.	Өзбекстандагы этникалык жана конфессиялар аралык мамилелер. Билим берүү системасынын реформалары жана кадрларды даярдоо. Эгемендүүлүк жылдарында илим-билим жана спортту өнүктүрүү. Эгемендүүлүк жылдарында Өзбекстанда руханий-маданий өнүгүү жана эки тараптуу мамилелер.	К	Жадыбалдуу тест	Шайкештикти аныктоо <table border="1" style="margin-left: auto; margin-right: auto;"> <tr> <td>1)</td> <td>2)</td> <td>3)</td> </tr> <tr> <td> </td> <td> </td> <td> </td> </tr> </table>	1)	2)	3)				Жадыбал көрүнүшүндөгү үч тапшырмада ар бир суроого анын жообун дал келтириш керек. 3-4 суроо жана 3-4 төн көп жооп варианттары берилет. 1 суроого бир канча жооптор да дал келиши мүмкүн. Шайкештиктин бардык туура жообу үчүн <b>21 балл</b> берилет. 3 төн түзүлгөн суроолордо 1 туура жооп үчүн <b>7 балл</b> , 4 төн түзүлгөн суроолордо бир туура жооп үчүн <b>5,25 балл</b>
1)	2)	3)									

					бардык ката жооптор үчүн <b>0</b> балл берилет.
5.	Өзбекстандын тышкы саясаты жана эки тараптуу мамилелери. Өзбекстан Республикасынын көп тараптуу кызматташтык мамилелеринин өнүгүшү	О	Тарыхый окуя жөнүндө өз алдынча пикирлөө	Оозеки	<ul style="list-style-type: none"> <li>- Жыл жана даталарды билсе - <b>3 балл</b>;</li> <li>- Суроонун мазмунун, ага байланыштуу маселелерди түшүнүү жана процессти бүгүнкү күн менен байланыштыра алса – <b>5 балл</b>;</li> <li>- Карта менен иштей алса – <b>4 балл</b>;</li> <li>- темага сын көз менен карап, талдай алса – <b>5 балл</b>;</li> <li>- Экзаменди алуучу тарабынан берилген темага байланыштуу кошумча суроолорго жооп бере алса – <b>5 балл</b></li> </ul> <b>22 балл</b>

**ТАПШЫРМАЛАР БОЮНЧА БААЛООНУН ЧЕНЕМДЕРИ.**

## Тапшырмалар төмөнкү баалоонун ченемдери боюнча бааланат:

1) **Билүүгө** байланыштуу кыска суроолор берилген болуп, суроого туура жооп жазылса – **18 балл** менен бааланат. Ката жооп үчүн 0 балл берилет.

2) **Колдоо** эки усулда берилген, биринчи усул: картанын негизинде, экинчиси үчүн жадыбалдуу тест – дал келтирүү. Картада белгиленген аймакты аныктап, берилген тапшырманы аткарса – 21 балл. Аймак аныкталса, бирок тапшырма аткарылбаса – 10 балл. Ката жооп үчүн 0 балл берилет. Жадыбал көрүнүшүндөгү тапшырмада, ар бир суроого анын жообун дал келтириш керек. 3-4 суроо жана 3-4 төн көп жооп варианттары берилет. Шайкештиктин бардык туура жообу үчүн **21 балл** берилет. 3 төн түзүлгөн суроолордо 1 туура жооп үчүн **7 балл**, 4 төн түзүлгөн суроолордо бир туура жооп үчүн **5,25 балл**, бардык ката жооптор үчүн **0** балл берилет.

3) **Ой жүгүртүү** окуучудан берилген суроого өз алдынча пикир билдириши суралат – **22 балл**

- Жыл жана даталарды билсе - **3 балл**;

- Суроонун мазмунун, ага байланыштуу маселелерди түшүнүү жана процессти бүгүнкү күн менен байланыштыра алса – **5 балл**;

- Карта менен иштей алса – **4 балл**;

- темага сын көз менен карап, талдай алса – **5 балл**;

- Экзаменди алуучу тарабынан берилген темага байланыштуу кошумча суроолорго жооп бере алса – **5 балл**

# 11-КЛАСС ОКУУЧУЛАРЫ ҮЧҮН ӨЗБЕКСТАН ТАРЫХЫ ПРЕДМЕТИНЕН ЖАЙЫНТЫКТООЧУ ЭКЗАМЕНДИН СУРООЛОРУ

## 1-сууро БИЛҮҮ (18 балл) 10-класс Өзбекстан тарыхы .

1. XIX кылымдын орто ченине келип Бухара эмираты, Хива жана Кокон хандыктарынын этникалык курамы бири-бирине жакын, негизинен өзбектерден түзүлгөн болуп, дагы кайсы элеттин өкүлдөрү жашашкан?

Жооп: \_\_\_\_\_

2. XIX кылымдын орто ченинде Бухара эмиратында, Хива жана Кокон хандыктарында башкы министрдин милдетин кайсы мансаптын ээлери аткарган?

Жооп: \_\_\_\_\_

3. Орусия империясынын Өкмөтүн Орто Азияны басып алуусун дагы да тездетүүгө кайсы фактор таасир эткен?

Жооп: \_\_\_\_\_

4. XIX кылымдын экинчи жарымында Ташкент шаарынын канча дарбазасы болгон жана канча массивге бөлүнгөн?

Жооп: \_\_\_\_\_

5. Россия империясынын 1868-жылы Бухара эмиратына каршы согуш башташына эмне шылтоо болгон?

Жооп: \_\_\_\_\_

6. Орто Азиянын Россия империясы тарабынан басып алынышы канча этапта ишке ашырылган жана Кокон хандыгы качан кулаган?

Жооп: \_\_\_\_\_

7. “Холера козголоңу”, “Дүкчү Эшен козголоңу” качан жана каерде болуп өткөн?

Жооп: \_\_\_\_\_

8. 1916-жылдагы Жыззак козголоңу эмне себептен көтөрүлгөн?

Жооп: \_\_\_\_\_

9. Жадидизм кыймылы качан пайда болгон жана бул кыймылдын мүчөлөрүнөн кимди билесиң?

Жооп: \_\_\_\_\_

10. Абдулла Авлани 1907-жылы негиздеген гезета эмне деп аталат жана мектептер үчүн кандай окуу китептерин түзгөн?

Жооп: \_\_\_\_\_

\_\_\_\_\_

\_\_\_\_\_

\_\_\_\_\_

\_\_\_\_\_

\_\_\_\_\_



**2-суроо КОЛДОО (21 балл) Карта менен иштөө (10-класс Өзбекстан тарыхы).**

1. Жылдызча менен белгиленген аймакты аныктап, 1917-жыл 27-ноябрда түзүлгөн мамлекет жөнүндө маалымат бер? (Колдоо - 21 балл)



Жооп: \_\_\_\_\_

\_\_\_\_\_

\_\_\_\_\_

\_\_\_\_\_

\_\_\_\_\_

\_\_\_\_\_

\_\_\_\_\_

\_\_\_\_\_

\_\_\_\_\_

\_\_\_\_\_

\_\_\_\_\_

\_\_\_\_\_

2. Жылдызча менен белгиленген аймакты аныктап, ушул аймакта 1918-1924-жылдардын арасында Совет өкмөтүнө каршы басып алуу аракеттери жөнүндө маалымат (Колдоо - 21 балл)



Жооп: \_\_\_\_\_

\_\_\_\_\_

\_\_\_\_\_

\_\_\_\_\_

\_\_\_\_\_

\_\_\_\_\_

\_\_\_\_\_

\_\_\_\_\_

\_\_\_\_\_

\_\_\_\_\_

\_\_\_\_\_

\_\_\_\_\_

\_\_\_\_\_

\_\_\_\_\_

\_\_\_\_\_

3. Картанын негизинде Орто Азиянын аймагында 1924-жылда түзүлгөн мамлекеттерди аныктап көрсөт жана улуттук-аймактык делимитациялоо жөнүндө маалымат бер.  
(Колдоо - 21 балл)



Жооп: \_\_\_\_\_

\_\_\_\_\_

\_\_\_\_\_

\_\_\_\_\_

\_\_\_\_\_

\_\_\_\_\_

\_\_\_\_\_

\_\_\_\_\_

\_\_\_\_\_

\_\_\_\_\_

\_\_\_\_\_

\_\_\_\_\_

4. Жылдызча менен белгиленген аймакты аныктап, ошол аймакта 1918-1924-жылдар арасында Совет өкмөтүнө каршы басып алуу аракеттери жөнүндө маалымат бер. (Колдоо - 21 балл)



Жооп: \_\_\_\_\_

\_\_\_\_\_

\_\_\_\_\_

\_\_\_\_\_

\_\_\_\_\_

\_\_\_\_\_

\_\_\_\_\_

\_\_\_\_\_

\_\_\_\_\_

\_\_\_\_\_

\_\_\_\_\_

\_\_\_\_\_

5. 1924-1936-жылдарда Орто Азия аймагындагы Түркстан АССР, Бухара жана Харезм республикаларынын ордунда түзүлгөн мамлекеттин аймактарын ажыратып, алар жөнүндө маалымат бер. (Колдоо - 21 балл)



Жооп: \_\_\_\_\_

\_\_\_\_\_

\_\_\_\_\_

\_\_\_\_\_

\_\_\_\_\_

\_\_\_\_\_

\_\_\_\_\_

\_\_\_\_\_

\_\_\_\_\_

\_\_\_\_\_

\_\_\_\_\_

\_\_\_\_\_

\_\_\_\_\_

\_\_\_\_\_

\_\_\_\_\_

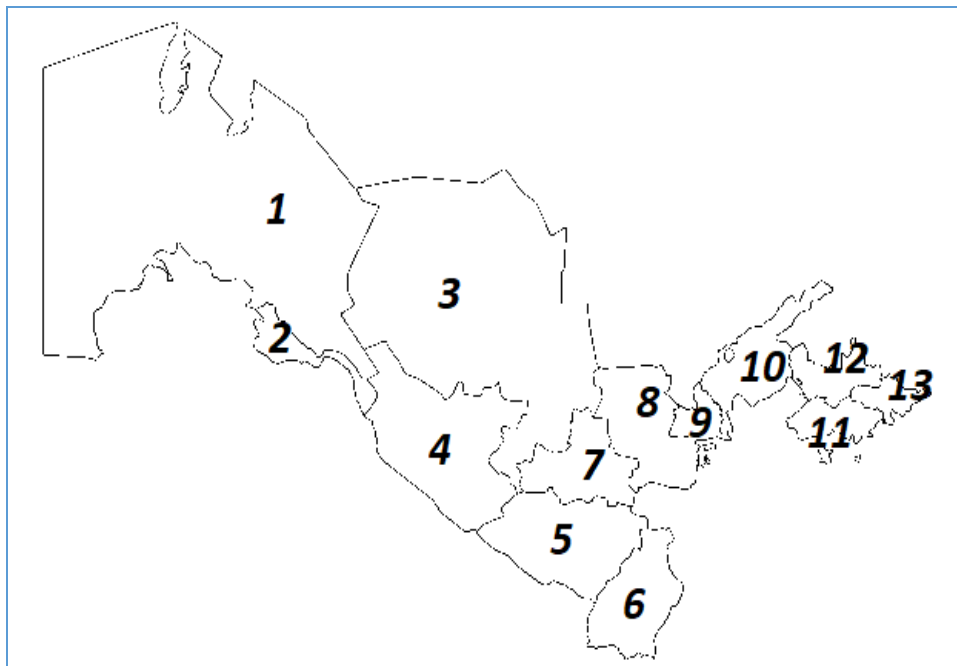
\_\_\_\_\_

6. Өзбекстан ССРи түзүлгөн убакта 1925-жыл февраль-апрелдерде (а) шаары, 1925-жылдын апрелинен 1930-жылдын сентябрына чейин (б) шаары жана (с) азыркыга чейин Өзбекстан ССР нин борбору эсептелген. Тамгалар менен берилген шаарлар картада канчанчы санда белгиленгендигин аныкта. (Колдоо - 21 балл)



Жооп: \_\_\_\_\_  
\_\_\_\_\_  
\_\_\_\_\_  
\_\_\_\_\_  
\_\_\_\_\_  
\_\_\_\_\_  
\_\_\_\_\_  
\_\_\_\_\_  
\_\_\_\_\_  
\_\_\_\_\_  
\_\_\_\_\_  
\_\_\_\_\_

7. Картадагы сандардын негизинде жер-суу реформасынын экинчи этабы жүргүзүлгөн аймактарды аныктап, жер-суу реформасы жөнүндө маалымат бер. (Колдоо - 21 балл)



Жооп: \_\_\_\_\_

\_\_\_\_\_

\_\_\_\_\_

\_\_\_\_\_

\_\_\_\_\_

\_\_\_\_\_

\_\_\_\_\_

\_\_\_\_\_

\_\_\_\_\_

\_\_\_\_\_

\_\_\_\_\_

\_\_\_\_\_

\_\_\_\_\_

\_\_\_\_\_

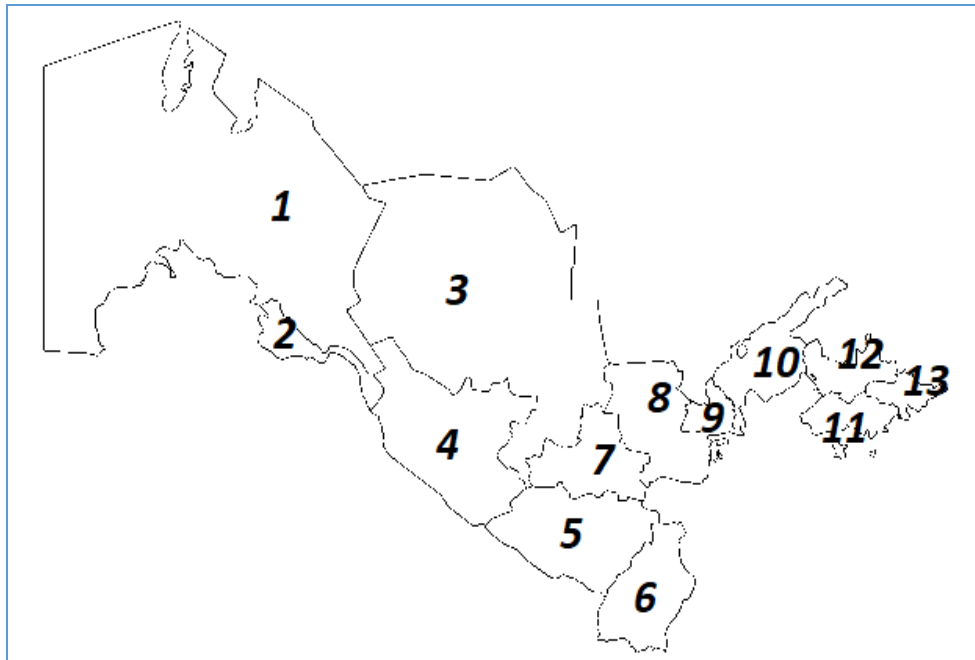
\_\_\_\_\_

\_\_\_\_\_

\_\_\_\_\_

\_\_\_\_\_

8. 1956-жылы (А) облусунда мунай-газ кени табылган, 1958-жылы 3-сентябрда кен-металлургиялык комбинатына пайдубалдын коюлушу менен (б) шаарына негиз салынган. Тамгалардын ордундагы шаарлар картада канчанчы номер менен белгиленгенин аныкта (Колдоо - 21 балл)



Жооп: \_\_\_\_\_

\_\_\_\_\_

\_\_\_\_\_

\_\_\_\_\_

\_\_\_\_\_

\_\_\_\_\_

\_\_\_\_\_

\_\_\_\_\_

\_\_\_\_\_

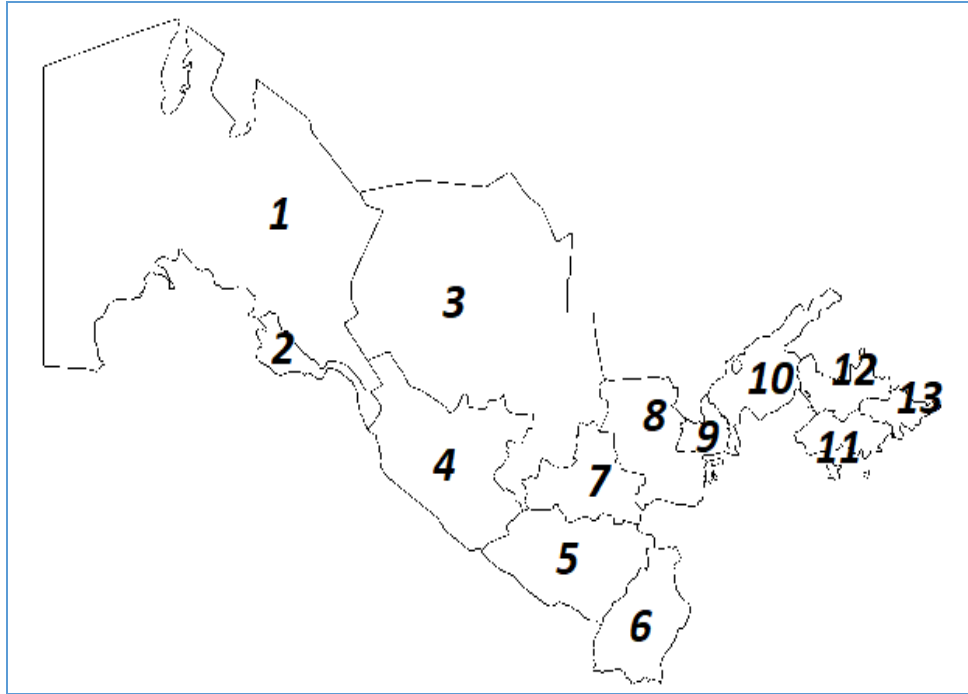
\_\_\_\_\_

\_\_\_\_\_

\_\_\_\_\_



9. 1925-жылдын 13-17-февраль күндөрү Бухарада болуп Бүткүл өзбек кеңештеринин I негиз курултайында «Өзбекстан Советтик Социалисттик Республикасын түзүү жөнүндө Декларация» кабыл алынды. Декларацияга байланыштуу Өзбекстан ССРинин курамына кайсы облустар кирген? Облустарды картадан пайдаланып аныкта. (Колдоо- 21 балл)



Жооп: \_\_\_\_\_  
\_\_\_\_\_  
\_\_\_\_\_  
\_\_\_\_\_  
\_\_\_\_\_  
\_\_\_\_\_  
\_\_\_\_\_  
\_\_\_\_\_  
\_\_\_\_\_  
\_\_\_\_\_  
\_\_\_\_\_  
\_\_\_\_\_

10. 1943 – жылдан Өзбекстан үчүн жаңы түшүм – кант кызылчасын өстүрүү үчүн түшүмдүү жерлер кайсы аймактардан бөлүнгөн? Аймактарды картадагы номерлер боюнча аныкта (Колдоо- 21 балл)



Жооп: \_\_\_\_\_

\_\_\_\_\_

\_\_\_\_\_

\_\_\_\_\_

\_\_\_\_\_

\_\_\_\_\_

\_\_\_\_\_

\_\_\_\_\_

\_\_\_\_\_

\_\_\_\_\_

\_\_\_\_\_

\_\_\_\_\_

\_\_\_\_\_

\_\_\_\_\_

\_\_\_\_\_

\_\_\_\_\_

\_\_\_\_\_

\_\_\_\_\_

\_\_\_\_\_

\_\_\_\_\_

\_\_\_\_\_

\_\_\_\_\_

\_\_\_\_\_

### 3-суроо БИЛҮҮ (18 балл) (11-класс Өзбекстан тарыхы).

1. 17 беренеден турган кайсы мыйзам суверендүү Өзбекстан Республикасынын негизги белгилерин аныктап берген? (Билүү - 18 балл)

Жооп: \_\_\_\_\_

2. Өзбекстан Республикасынын Конституциясын түзүү иштери үстүндө канча убакыт жүргүзүлгөн жана долбоордун баштапкы варианты канча бөлүмдөн жана беренелерден турган? (Билүү - 18 балл)

Жооп: \_\_\_\_\_

3. 1991-жылы 29-декабрда Өзбекстан Республикасынын Президенттигине альтернативанын негизинде өткөн шайлоодо кимдер жогорку кызматка талапкер болуп, кандидатураларын коюшкан? (Билүү - 18 балл)

Жооп: \_\_\_\_\_

4. Өзбекстан Республикасынын Жогорку Кеңеши 2005-жылдан баштап кайсы палаталардын негизинде иштеп келет? (Билүү - 18 балл)

Жооп: \_\_\_\_\_

5. Өзбекстан Республикасынын Конституциясынын үчүнчү принцибинде мамлекеттик бийликтин үч тармакка бөлүнүшү мыйзамдаштырылган. Алар кайсылар? (Билүү - 18 балл)

Жооп: \_\_\_\_\_

6. Коомдогу социалдык көйгөйлөрдү чечүү кайсы партиянын башкы максаты болуп саналат? (Билүү - 18 балл)

Жооп: \_\_\_\_\_

7. Ангрэн-Пап темир жолу жана Камчык туннели качан жана эмне үчүн ачылган? (Билүү - 18 балл)

Жооп: \_\_\_\_\_

8. 1992-жылы августта Өзбекстан кайсы мамлекет менен Андижан облусунун Асака шаарында автоунаа иштеп чыгаруучу кошмо ишкана түзүү боюнча келишимге кол койгон? (Билүү - 18 балл)

Жооп: \_\_\_\_\_

9. Өлкөдө суунун тартыштыгы эсепке алынып, 1998-жылдан баштап пахта чарбачылыгында кандай технология киргизилди? (Билүү - 18 балл)

Жооп: \_\_\_\_\_

10. Эл аралык интермодалдык логистикалык борбор кайсы аймакта курулган? (Билүү - 18 балл)

Жооп: \_\_\_\_\_

#### 4-суроо КОЛДОО(21 балл) Жадыбалдуу тест, дал келтирүү (11-класс Өзбекстан тарыхы)

1. Төмөнкү мамлекеттердин белгилей турган майрамдары менен дал келтир. (Колдоо- 21 балл).

1) Кытай

a) «Соллер»

b) «Сабан той»

2) Корейс

c) «Сейил»

3) Уйгур

d) «Чунузе»

e) «Овол – тано»

f) «Масленница»

1)

2)

3)

2. Төмөнкү терминдерди түшүндүрмөсү менен дал келтир. (Колдоо- 21 балл).

1) Байналмилал

a) Базалык жогорку билим берүү курсун аяктагандан кийин кошумча программаны аяктаган, атайын экзамендерди тапшырган жана конкреттүү илимий ишти коргогон адамдарга берилет.

2) Конфессия

b) Жогорку билим берүү программасынын биринчи этабын аяктаган студенттердин илимий даражасы.

3) Толеранттуулук

c) Коом, улут, жамаат же жеке адамдын тарыхый жактан калыптанган ой жүгүртүү даражасы.

4) Бакалавр

d) Диний ишеним, ишенич; ошол менен бирге секталык мазмундагы түшүнүк.

e) Башкалардын ойлоруна, ишенимдерине, сезимдерине, жашоо образына жана жүрүм-турумуна карата чыдамдуу болуу; көңүлгө албоо, кең пейилдүүлүк.

f) Эл аралык, жалпы адамзаттык, жалпы элдик деген мазмундарда колдонулат.

1)	2)	3)	4)

3. Жылдарды аталыштары менен дал келтир. (Колдоо- 21 балл).

1) 2001 - жыл

a) “Жеткилең муун жылы”

b) “Инсанга этибар жана сапаттуу билим берүү жылы”

2) 2010 - жыл

c) “Эне жана бала жылы”

d) “Ден-соолуктагы эне жана бала жылы”

3) 2015 - жыл

e) “Жаштар жана бизнести колдоп-кубаттоо жылы”

4) 2023 - жыл

f) “Карыларды кадырлоо жылы”

g) “Жаштар жылы”

1)	2)	3)	4)

4. Кадрларды даярдоо боюнча улуттук программа 3 этаптагы реформалардын негизинде ишке ашырылган. Этаптар менен ишке ашырылган иштерди дал келтир. (Колдоо- 21 балл).

I этап

а) Мектеп китептери толугу менен жаңыланды

б) Кадрларды даярдоонун улуттук программасынын натыйжасында жетишилген натыйжалар, топтолгон тажрыйбалар жалпылаштырылып, ушул негизде өлкөбүздө билим берүү системасы өркүндөтүлдү

II этап

с) Өлкөбүздө толук 12 жылдык милдеттүү билим берүү системасы киргизилди

д) Программаны ишке ашыруу үчүн зарыл болгон ченемдик-укуктук, илимий-методикалык, финансылык-материалдык шарттар түзүлдү

III этап

е) 1-октябрь - "Окутуучу жана устаттар күнү" деп белгиленди.

ф) Улуттук программа кеңири масштабда жайылтылды.

1)	2)	3)

5. Өзбекстан Республикасынын президенттери жүргүзгөн билим берүү тармагындагы реформаларды дал келтир. (Колдоо- 21 балл).

1) Ислам Каримов

а) Мектепке алгачкы кадам таштаган биринчи класстын окуучуларына президенттик белек тапшырылат.

б) Мультимедиялык окуу адабияттарын иштеп чыгуу жолго коюлду.

с) 11 жылдык билим берүү системасы киргизилди.

2) Шавкат Мирзиёев

д) Мектепке чейинки билим берүү министрлиги түзүлдү.

е) Журтубузда толук 12 жылдык милдеттүү билим берүү системасы киргизилди

f) мектепте билим берүүнү өнүктүрүүнүн мамлекеттик жалпы улуттук программасы кабыл алынды.

1)	2)

6. Чет элдик мамлекеттик университеттерди дал келтир. (Колдоо- 21 балл).

1) Улуу  
Британиянын

a) И.М.Губкин атындагы мунай жана газ мамлекеттик университети

b) ИНХА университети

2) Россия

c) Менежментти өнүктүрүү институту

d) Эл аралык Вестминстер университети

3) Түштүк Корея

e) Турин политехникалык университети

4) Италия

f) М.В.Ломоносов атындагы Москва мамлекеттик университети

1)	2)	3)	4)

7. Төмөнкү университеттерди негизги багыттары боюнча дал келтир. (Колдоо- 21 балл).

Вестминстер  
университети

a) Экономика

b) Математика жана психология

Турин  
политехникалык  
университети

c) Маалыматтык технологиялар

d) Мунай жана газ

ИНХА  
университети

e) Экономика жана бизнес

f) Техника жана технологиялар

1)	2)	3)

8. Төмөнкү спорттук мелдештер кимдердин ортосунда өткөрүлүшүн дал келтир. (Колдоо- 21 балл).

«Жеткилең муун»	a) Жалпы билим берүүчү мектептердин окуучулары арасында
	b) Аскерлердин ортосунда
«Универсиада»	c) Атайын орто кесиптик коллеждердин студенттери арасында
	d) Жогорку окуу жайынын аялдары ортосунда
«Умид нихоллари»	e) Жогорку окуу жайынын студенттери ортосунда
	f) Айылдык жаштар арасында

1)	2)	3)

9. Төмөнкү спортчуларды алар жөнүндөгү маалыматтар менен дал келтир. (Колдоо- 21 балл).

Хасанбай Достматов	a) 2016-жылы Бразилиянын Рио-де-Жанейро шаарында өткөн XXXI Олимпиада оюндарында Алтын медалдын ээси.
	b) Спорттун бокс түрү менен машыгат.
Шахрам Гиёсов	c) Спорттун оор атлетика түрү менен машыгат
	d) Азиянын эң мыкты судьясы деп табылды.
Мураджан Ахмадалиев	e) 2016-жылы Бразилиянын Рио-де-Жанейро шаарында өткөн XXXI Олимпиада оюндарында Күмүш медалдын ээси
Руслан Нуриддинов	f) 2016-жылы Бразилиянын Рио-де-Жанейро шаарында өткөн XXXI Олимпиада оюндарында Бронза медалдын ээси



1)	2)	3)	4)

10. Төмөнкү жаштар үчүн түзүлгөн уюмдарды алар жөнүндөгү маалыматтар менен дал келтир. (Колдоо- 21 балл).

1) «Камолот»  
Жаштардын  
коомдук аракети

a) Өзүнө жүктөлгөн милдеттерди аткара албаган, реалдуу түрдө жаштардын лидери боло албаган уюм.

b) 2017-жыл 30-июнь күнү түзүлгөн.

2) «Өзбекстан  
Жаштар уюму»

c) 2001-жылы Ташкентте болгон жаштар конгрессинде өзүн-өзү башкаруучу бейөкмөт, коммерциялык эмес уюм катары түзүлгөн.

d) Өзбекстандын Президентине жаштардын көйгөйлөрүн жана демилгелерин түздөн-түз жеткирет.

3) «Камолот»  
фонду

e) Жаштардын кызыкчылыктарын жана муктаждыктарын үйрөнүп, аларды канааттандыруу үчүн программаларды иштеп чыккан уюм.

f) Башкы максаты - жаштарды бириктирүү, алардын коомдо татыктуу орун алышына көмөктөшүү

1)	2)	3)

## **5-суроо ОЙ ЖҮГҮРТҮҮ (22 балл) (11-класс Өзбекстан тарыхы)**

1. Эмне деп ойлойсуң? Өзбекстандын кандай геосаясий мүмкүнчүлүктөрү бар? (Ой жүгүртүү - 22 балл).
2. Өзбекстандын тышкы саясатынын принциптерин сана жана сен кандай принципти өзгөрткөн болор элең? (Ой жүгүртүү - 22 балл).
3. Эмне себептен Өзбекстан эгемендүүлүктүн алгачкы жылдарында Борбордук Азия өлкөлөрү менен достукту жана кызматташтыкты чыңдоого көңүл бурган? (Ой жүгүртүү - 22 балл).
4. Азыркы күндөгү Өзбекстан Республикасынын Европа өлкөлөрү менен мамилелеринин оң жана терс жактары жөнүндө пикиринди билдир (Ой жүгүртүү - 22 балл).
5. Азиядагы жаңы индустриалдык өнүгүп келе жаткан өлкөлөрдүн катарына кайсы өлкөлөр кирет? Алар менен мамиле кылуу канчалык маанилүү деп ойлойсуң? (Ой жүгүртүү - 22 балл).
6. Өзбекстандын БУУга кириши канчалык маанилүү деп ойлойсуң? (Ой жүгүртүү - 22 балл).
7. Учурда аралдын көйгөйүн чечүү үчүн кандай иш-чаралар жүрүп жатат? Аралдын көйгөйүн чечүү үчүн дагы эмне кылуу керек деп ойлойсуң? (Ой жүгүртүү - 22 балл).
8. Эмне себептен Өзбекстандын тышкы саясатынын көңүл борборунда көз карандысыз Мамлекеттер Шериктештигинин өлкөлөрү менен өз ара пайдалуу мамилелерди бекемдөө иштери алып барылууда? (Ой жүгүртүү - 22 балл).
9. Эмне үчүн Өзбекстан Шанхай кызматташтык уюмуна мүчө болду деп ойлойсуң? (Ой жүгүртүү - 22 балл).
10. Шанхай кызматташтык уюмуна кайсы органдар жана структуралар кирерин сана. Алардын функциялары жана ыйгарым укуктары кандай? (Ой жүгүртүү - 22 балл).